


# Problemas - Fracciones.

1.


Observa y resuelve.




$$\frac{1}{2} \text{ kg}$$

(A) ¿Cuánto pesan en total las uvas y las peras?

$$\frac{3}{4} \text{ kg}$$



(B) ¿Cuánto pesan las manzanas más que las uvas?




$$\frac{1}{5} \text{ kg}$$

(C) ¿Cuánto pesa en total toda la fruta?

2.

Observa el peso de la bolsa de rosquillas y resuelve.



$$\frac{9}{4} \text{ kg}$$

(A) Mónica reparte en partes iguales las rosquillas de una bolsa en 2 platos. ¿Qué fracción de kilo pesan las rosquillas de cada plato?

(B) Rafa envasa las rosquillas de una bolsa en varias cajas de  $\frac{3}{8}$  kg cada una. ¿Cuántas cajas prepara?

